

INVESTICE DO ROZVOJE VZDĚLÁVÁNÍ

Výukový materiál zpracován v rámci projektu EU peníze školám

Registrační číslo projektu: CZ.1.07/1.4.00/21.3149

Šablona:	III/2	č. materiálu:	VY_32_INOVACE_22
----------	-------	---------------	------------------

Jméno autora:	Alena Boublíková
Třída/ročník:	II.
Datum vytvoření:	20. 10. 2011

Vzdělávací oblast:	Matematika a její aplikace
Tematická oblast:	Pamětné sčítání a odčítání
Předmět:	Matematika
Výstižný popis způsobu využití nebo metodické pokyny:	<ol style="list-style-type: none">1. - žák řeší slovní úlohy s užitím vztahu o n- více, o n- méně v oboru do 20 bez přechodu desítky<ul style="list-style-type: none">- zapisuje čísla, doplňuje odpověď2. - žák pracuje s jednoduchou tabulkou<ul style="list-style-type: none">- zapisuje čísla do správného políčka3. - žák řadí čísla podle velikosti (vzestupně), procvičuje orientaci v číselné řadě v oboru do 20

Počítání s obrázky

A) Vypočítej správně slovní úlohy a doplň do odpovědí.

1.

Mírek má ve své sbírce 15 autíček. Jirka má ještě o 5 autíček více.
Kolik autíček má Jirka?



Jirka má autíček.

2.

Tatínek našel 18 hříbků. Maminka našla o 7 hříbků méně.
Kolik hříbků našla maminka?



Maminka našla hříbků.

3.

Matěj si ořezal 13 pastelek. Libor si ořezal ještě o 3 pastelky více.
Kolik pastelek si ořezal Libor?



Libor si ořezal pastelek.





4.

Lenka vyhrála 14 barevných kuliček. Aleš vyhrál o 2 kuličky méně.
Kolik kuliček vyhrál Aleš?



Aleš vyhrál kuliček.

B) Doplň tabulku - napiš výsledky úloh pod správné obrázky.

C) Seřad' výsledky úloh od nejmenšího čísla po největší.

.....

Použité zdroje :

<http://vanocnieshop.cz/darky-pro-kluky.php>

<http://msvh.cz/new/?q=programa>

<http://www.wastex.cz/skolni-potreby-naradi.php>

<http://najs.cz/shop/?40.privesek-kulicka-na-snurce>

Počítání s obrázky - Řešení

A) Vypočítej správně slovní úlohy a doplň do odpovědí.

1.

Mirek má ve své sbírce 15 autíček. Jirka má ještě o 5 autíček více.
Kolik autíček má Jirka?



Jirka má **20** autíček.

2.

Tatínek našel 18 hříbků. Maminka našla o 7 hříbků méně.
Kolik hříbků našla maminka?



Maminka našla **11** hříbků.

3.

Matěj si ořezal 13 pastelek. Libor si ořezal ještě o 3 pastelky více.
Kolik pastelek si ořezal Libor?



Libor si ořezal **16** pastelek.


4.

Lenka vyhrála 14 barevných kuliček. Aleš vyhrál o 2 kuličky méně.
Kolik kuliček vyhrál Aleš?



Aleš vyhrál **12** kuliček.

B) Dopln' tabulku - napiš výsledky úloh pod správné obrázky.

			
20	11	16	12

C) Seřad' výsledky úloh od nejmenšího čísla po největší.

11 < 12 < 16 < 20

Použité zdroje :

<http://vanocnieshop.cz/darky-pro-kluky.php>

<http://msvh.cz/new/?q=programa>

<http://www.wastex.cz/skolni-potreby-naradi.php>

<http://najs.cz/shop/?40,privesek-kulicka-na-snurce>