

INVESTICE DO ROZVOJE VZDĚLÁVÁNÍ

## Výukový materiál zpracován v rámci projektu EU peníze školám

Registrační číslo projektu: CZ.1.07/1.4.00/21.3149

Šablona:	III/2	č. materiálu:	VY_32_INOVACE_166
----------	-------	---------------	-------------------

Jméno autora:	Alena Boublíková
Třída/ročník:	II.
Datum vytvoření:	7. 12. 2012

Vzdělávací oblast:	Matematika a její aplikace
Tematická oblast:	Slovní úlohy z běžného života
Předmět:	Matematika
Výstižný popis způsobu využití nebo metodické pokyny:	<ol style="list-style-type: none"><li>1. - žák řeší slovní úlohy s užitím vztahu o n- méně v oboru do 100 - doplňuje čísla, vypočítá, sestaví a zapíše odpověď</li><li>2. - žák se orientuje v textu - sčítá a odčítá v oboru do 100 - celé desítky - řeší jednoduché slovní úlohy</li><li>3. - žák se orientuje v užití peněz - zakresluje možnou platbu v mincích a bankovkách</li></ol>

## PRACOVNÍ LIST 6.

### 1. Přečti si slovní úlohu, doplň čísla do zápisu, vypočítej a napiš odpověď.

Honzík měl v pokladničce 90 korun.  
Kubík měl našetřeno o 20 korun méně.  
Kolik korun měl Kubík ?

Honzík .....korun  
Kubík o .....korun méně  
Kubík ? korun



Výpočet :

Odpověď :

### 2. Doplň správné výpočty .

Evžen dostal od babičky 50 korun a od dědečka také 50 korun.

Kolik korun má celkem ? \_\_\_\_\_

Koupil si časopis o autech za 40 korun.

Kolik korun mu zbylo ? \_\_\_\_\_

### 3. Nakresli, jak zaplatíš. (mince, bankovky)

**75 Kč**

**43 Kč**

**100 Kč**

**32 Kč**

**1. Přečti si slovní úlohu, doplň čísla do zápisu, vypočítej a napiš odpověď.**

Honzík měl v pokladničce 90 korun.  
Kubík měl našetřeno o 20 korun méně.  
Kolik korun měl Kubík ?



Honzík                    90 korun  
Kubík                    o 20 korun méně  
Kubík                    ?    korun

Výpočet :  $90 - 20 = 70$

Odpověď : **Kubík měl našetřeno 70 korun.**

**2. Doplň správné výpočty .**

Evžen dostal od babičky 50 korun a od dědečka také 50 korun.


Kolik korun má celkem ?  $50 + 50 = 100$

Koupil si časopis o autech za 40 korun.

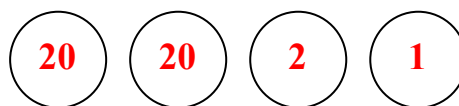
Kolik korun mu zbylo ?  $100 - 40 = 60$

**3. Nakresli, jak zaplatíš. (mince, bankovky)**


75 Kč



43 Kč



100 Kč



32 Kč

